


か 買えるかな？はらえるかな？①

おさいふの中に ^{えんだま}500円玉が ^こ2個   ^{かね}あります。お金をはらいましょう。

- 1、 450 円のラーメンを ^た食べたいのですが、500 円玉  ではらえますか？ はい いいえ



$$500 - 450 =$$

おつりは _____ 円

ここにおつりを（お金のシールで）はります



- 2、 380 円のおでんを ^か買いたいののですが、500 円玉  ではらえますか？ はい いいえ



$$500 - 380 =$$

おつりは _____ 円

ここにおつりを（お金のシールで）はります



- 3、 630 円のオムレツ弁当を ^か買います。持っている ^もお金で ^{かね} ^か買えますか？  
はい いいえ



$$1,000 - 630 =$$

おつりは _____ 円

ここにおつりを（お金のシールで）はります

- 4、 980 円のいちごケーキを ^か買います。持っている ^もお金で ^{かね} ^か買えますか？  
はい いいえ




$$1000 - 980 =$$


おつりは _____ 円

ここにおつりを（お金のシールで）はります

か 買えるかな？はらえるかな？②

おさいふの中に ^{えんだま}500円玉が ^こ2個   ^{かね}あります。お金をはらいましょう。


- 1、260円のハンバーガーを食べたいのですが、^{えん}500円  ではらえますか？ はい いいえ



$$500 - 265 =$$

おつりは _____ 円

ここにおつりを（お金のシールで）はります


- 2、470円のチャーハンを食べたいのですが、^{えん}500円  ではらえますか？ はい いいえ



$$500 - 470 =$$

おつりは _____ 円

ここにおつりを（お金のシールで）はります



- 3、^{しょうろんぼう}490円の小籠包を食べたいのですが、^{えん}500円  ではらえますか？ はい いいえ



$$500 - 490 =$$

おつりは _____ 円

ここにおつりを（お金のシールで）はります

- 4、980円のロブスターを食べたいのですが、^も持っている ^{かね}お金ではらえますか？  



はい いいえ


$$1000 - 980 =$$

おつりは _____ 円

ここにおつりを（お金のシールで）はります

か 買えるかな？はらえるかな？③

おさいふの中に ^{えんだま}500円玉が ^こ2個   ^{かね}あります。お金をはらいましょう。

- 1、250円のハンバーガーを食べたいのですが、^{えん}500円  ではらえますか？ はい いいえ



$$500 - 250 =$$

おつりは _____ 円

ここにおつりを（お金のシールで）はります



- 2、380円の餃子を食べたいのですが、^{えん}500円  ではらえますか？ はい いいえ



$$500 - 380 =$$

おつりは _____ 円

ここにおつりを（お金のシールで）はります



- 3、680円の親子どんぶりを食べたいのですが、^も持っている ^{かね}お金ではらえますか？   はい いいえ



$$1000 - 680 =$$

おつりは _____ 円

ここにおつりを（お金のシールで）はります

- 2、1200円のハンバーグ弁当を食べたいのですが、^{かね}持っているお金ではらえますか？   はい いいえ




$$1000 - 1200 =$$

おつりは _____ 円

ここにおつりを（お金のシールで）はります

か 買えるかな？はらえるかな？④

おさいふの中に ^{えんだま}500円玉が ^こ2個   ^{かね}あります。お金をはらいましょう。

- 1、280円のホットドッグを ^た食べたいのですが、^{えん}500円  ではらえますか？ はい いいえ



$$500 - 280 =$$

おつりは _____ 円

ここにおつりを（お金のシールで）はります



- 2、340円のいちごケーキを ^か買いたいのですが、^{えん}500円  ではらえますか？ はい いいえ



$$500 - 340 =$$

おつりは _____ 円

ここにおつりを（お金のシールで）はります



- 3、620円のオムレツ弁当を ^か買いたいのですが、^も持っている ^{かね}お金ではらえますか？  
はい いいえ



$$1000 - 620 =$$

おつりは _____ 円

ここにおつりを（お金のシールで）はります

- 4、980円の大きなケーキを ^か買いたいのですが、^{かね}持っているお金ではらえますか？  
はい いいえ



$$1000 - 980 =$$

おつりは _____ 円

ここにおつりを（お金のシールで）はります